

類 科：統計

科 目：統計學概要

考試時間：1 小時 30 分

座號：_____

※注意：(一)可以使用電子計算器。

(二)不必抄題，作答時請將試題題號及答案依照順序寫在試卷上，於本試題上作答者，不予計分。

(三)本科目除專門名詞或數理公式外，應使用本國文字作答。

- 一、某藥廠想知道肝癌病人服用新藥半年後是否可以有效降低肝癌指數 (GOT)，自肝癌病人群中隨機抽取 8 人，記錄其服用新藥前和新藥服用半年後的 GOT。肝癌病人 GOT 如表所示。

肝癌病人	1	2	3	4	5	6	7	8
新藥服用前的 GOT	45	60	120	200	150	100	80	50
新藥服用半年後的 GOT	30	30	80	150	120	100	20	20

- (一)請問這兩群 (新藥服用前的 GOT 和新藥服用半年後的 GOT) 是相依還是獨立？請說明原因。(5 分)
- (二)試檢定新藥服用半年後是否可以有效降低 GOT，顯著水準 0.05。(10 分)
- (三)試檢定新藥服用半年後之 GOT 是否比服用新藥前之 GOT 平均至少可以減少 30，顯著水準為 0.05。(10 分)
- (四)上述檢定結果若可信賴，則數據之假設條件為何？(5 分)
- 二、令 A、B、C、D 及 E 表示五種品牌的手機，自各品牌的使用者分別隨機抽取 500 人調查其下次會再購買相同品牌的意願。資料如表所示。

品牌	A	B	C	D	E
會再購買相同品牌人數	450	300	250	100	50
抽取人數	500	500	500	500	500

- (一)請估計各品牌的使用者下次會再購買相同品牌手機的機率。(5 分)
- (二)請檢定各品牌的使用者下次會再購買相同品牌手機的機率是否都相同。顯著水準 $\alpha = 0.05$ 。(10 分)
- (三)假設只存在 A 和 E 兩品牌下，請以和子題(二)不同的檢定方法檢定 A 和 E 品牌手機的使用者下次會再購買相同品牌手機的機率是否相同，並說明何以可用此方法檢定。顯著水準 $\alpha = 0.05$ 。(10 分)

三、自 W 城市的土地所有者中隨機抽取 1,200 人，調查其土地位置 (X) 及土地售價 (Y)。收集之資料整理如表所示。

X \ Y	1,000 萬元	1,500 萬元	2,000 萬元	人數
位置 1	60	500	40	600
位置 2	40	300	60	400
位置 3	50	100	50	200
人數	150	900	150	1,200

- (一)將表中的人數計算為機率值。(4 分)
- (二)計算條件期望值 $E(Y|X \leq 2)$ 。(8 分)
- (三)試檢定土地位置 (X) 及土地售價 (Y) 是否相關。顯著水準 0.05。(8 分)

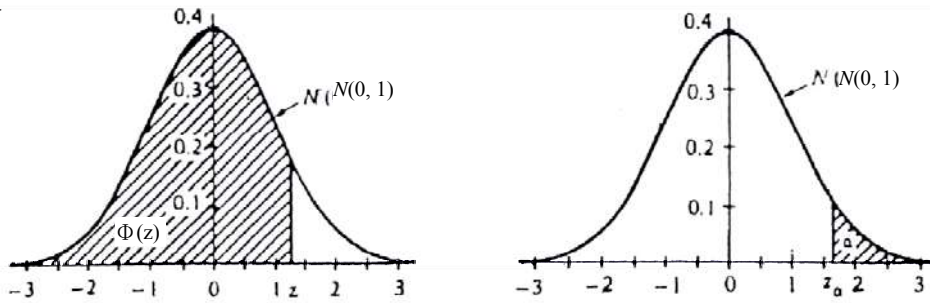
四、假設(X, Y)的聯合機率密度函數 (joint probability density function, pdf) 為

$$f(x, y) = c(3x + 2y), \quad 0 \leq x, y \leq 1.$$

- (一)計算 c 值。(5 分)
- (二)計算機率 $P(0 \leq X \leq 0.5, 0 \leq Y \leq 0.5)$ 。(5 分)
- (三)推導求得 X 的邊際機率密度函數 (Marginal pdf of X)。(5 分)
- (四)計算 X 的期望值和變異數。(10 分)

Z 值表

表一



$$P(Z \leq z) = \Phi(z) = \int_{-\infty}^z \frac{1}{\sqrt{2\pi}} e^{-w^2/2} dw$$

$$[\Phi(-z) = 1 - \Phi(z)]$$

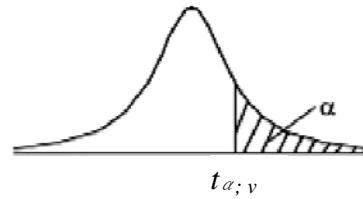
z	0.00	0.01	0.02	0.03	0.04	0.05	0.06	0.07	0.08	0.09
0.0	0.5000	0.5040	0.5080	0.5120	0.5160	0.5199	0.5239	0.5279	0.5319	0.5359
0.1	0.5398	0.5438	0.5478	0.5517	0.5557	0.5596	0.5636	0.5675	0.5714	0.5753
0.2	0.5793	0.5832	0.5871	0.5910	0.5948	0.5987	0.6026	0.6064	0.6103	0.6141
0.3	0.6179	0.6217	0.6255	0.6293	0.6331	0.6368	0.6406	0.6443	0.6480	0.6517
0.4	0.6554	0.6591	0.6628	0.6664	0.6700	0.6736	0.6772	0.6808	0.6844	0.6879
0.5	0.6915	0.6950	0.6985	0.7019	0.7054	0.7088	0.7123	0.7157	0.7190	0.7224
0.6	0.7257	0.7291	0.7324	0.7357	0.7389	0.7422	0.7454	0.7486	0.7517	0.7549
0.7	0.7580	0.7611	0.7642	0.7673	0.7703	0.7734	0.7764	0.7794	0.7823	0.7852
0.8	0.7881	0.7910	0.7939	0.7967	0.7995	0.8023	0.8051	0.8078	0.8106	0.8133
0.9	0.8159	0.8186	0.8212	0.8238	0.8264	0.8289	0.8315	0.8340	0.8365	0.8389
1.0	0.8413	0.8438	0.8461	0.8485	0.8508	0.8531	0.8554	0.8577	0.8599	0.8621
1.1	0.8643	0.8665	0.8686	0.8708	0.8729	0.8749	0.8770	0.8790	0.8810	0.8830
1.2	0.8849	0.8869	0.8888	0.8907	0.8925	0.8944	0.8962	0.8980	0.8997	0.9015
1.3	0.9032	0.9049	0.9066	0.9082	0.9099	0.9115	0.9131	0.9147	0.9162	0.9177
1.4	0.9192	0.9207	0.9222	0.9236	0.9251	0.9265	0.9279	0.9292	0.9306	0.9319
1.5	0.9332	0.9345	0.9357	0.9370	0.9382	0.9394	0.9406	0.9418	0.9429	0.9441
1.6	0.9452	0.9463	0.9474	0.9484	0.9495	0.9505	0.9515	0.9525	0.9535	0.9545
1.7	0.9554	0.9564	0.9573	0.9582	0.9591	0.9599	0.9608	0.9616	0.9625	0.9633
1.8	0.9641	0.9649	0.9656	0.9664	0.9671	0.9678	0.9686	0.9693	0.9699	0.9706
1.9	0.9713	0.9719	0.9726	0.9732	0.9738	0.9744	0.9750	0.9756	0.9761	0.9767
2.0	0.9772	0.9778	0.9783	0.9788	0.9793	0.9798	0.9803	0.9808	0.9812	0.9817
2.1	0.9821	0.9826	0.9830	0.9834	0.9838	0.9842	0.9846	0.9850	0.9854	0.9857
2.2	0.9861	0.9864	0.9868	0.9871	0.9875	0.9878	0.9881	0.9884	0.9887	0.9890
2.3	0.9893	0.9896	0.9898	0.9901	0.9904	0.9906	0.9909	0.9911	0.9913	0.9916
2.4	0.9918	0.9920	0.9922	0.9925	0.9927	0.9929	0.9931	0.9932	0.9934	0.9936
2.5	0.9938	0.9940	0.9941	0.9943	0.9945	0.9946	0.9948	0.9949	0.9951	0.9952
2.6	0.9953	0.9955	0.9956	0.9957	0.9959	0.9960	0.9961	0.9962	0.9963	0.9964
2.7	0.9965	0.9966	0.9967	0.9968	0.9969	0.9970	0.9971	0.9972	0.9973	0.9974
2.8	0.9974	0.9975	0.9976	0.9977	0.9977	0.9978	0.9979	0.9979	0.9980	0.9981
2.9	0.9981	0.9982	0.9982	0.9983	0.9984	0.9984	0.9985	0.9985	0.9986	0.9986
3.0	0.9987	0.9987	0.9987	0.9988	0.9988	0.9989	0.9989	0.9989	0.9990	0.9990
α	0.400	0.300	0.200	0.100	0.050	0.025	0.010	0.005	0.001	
Z _α	0.253	0.524	0.842	1.282	1.645	1.960	2.326	2.576	3.090	
Z _{α/2}	0.842	1.036	1.282	1.645	1.960	2.240	2.576	2.807	3.291	

t 值表

表二

Table of the Student's *t*-distribution

The table gives the values of $t_{\alpha; v}$ where
 $\Pr(T_v > t_{\alpha; v}) = \alpha$, with v degrees of freedom

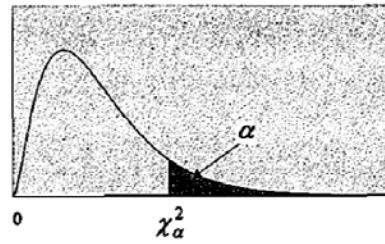


$\alpha \backslash v$	0.1	0.05	0.025	0.01	0.005	0.001	0.0005
1	3.078	6.314	12.076	31.821	63.657	318.310	636.620
2	1.886	2.920	4.303	6.965	9.925	22.326	31.598
3	1.638	2.353	3.182	4.541	5.841	10.213	12.924
4	1.533	2.132	2.776	3.747	4.604	7.173	8.610
5	1.476	2.015	2.571	3.365	4.032	5.893	6.869
6	1.440	1.943	2.447	3.143	3.707	5.208	5.959
7	1.415	1.895	2.365	2.998	3.499	4.785	5.408
8	1.397	1.860	2.306	2.896	3.355	4.501	5.041
9	1.383	1.833	2.262	2.821	3.250	4.297	4.781
10	1.372	1.812	2.228	2.764	3.169	4.144	4.587
11	1.363	1.796	2.201	2.718	3.106	4.025	4.437
12	1.356	1.782	2.179	2.681	3.055	3.930	4.318
13	1.350	1.771	2.160	2.650	3.012	3.852	4.221
14	1.345	1.761	2.145	2.624	2.977	3.787	4.140
15	1.341	1.753	2.131	2.602	2.947	3.733	4.073
16	1.337	1.746	2.120	2.583	2.921	3.686	4.015
17	1.333	1.740	2.110	2.567	2.898	3.646	3.965
18	1.330	1.734	2.101	2.552	2.878	3.610	3.922
19	1.328	1.729	2.093	2.539	2.861	3.579	3.883
20	1.325	1.725	2.086	2.528	2.845	3.552	3.850
21	1.323	1.721	2.080	2.518	2.831	3.527	3.819
22	1.321	1.717	2.074	2.508	2.819	3.505	3.792
23	1.319	1.714	2.069	2.500	2.807	3.485	3.767
24	1.318	1.711	2.064	2.492	2.797	3.467	3.745
25	1.316	1.708	2.060	2.485	2.787	3.450	3.725
26	1.315	1.706	2.056	2.479	2.779	3.435	3.707
27	1.314	1.703	2.052	2.473	2.771	3.421	3.690
28	1.313	1.701	2.048	2.467	2.763	3.408	3.674
29	1.311	1.699	2.045	2.462	2.756	3.396	3.659
30	1.310	1.697	2.042	2.457	2.750	3.385	3.646
40	1.303	1.684	2.021	2.423	2.704	3.307	3.551
60	1.296	1.671	2.000	2.390	2.660	3.232	3.460
120	1.289	1.658	1.980	2.358	2.617	3.160	3.373
∞	1.282	1.645	1.960	2.326	2.576	3.090	3.291

卡方分配臨界值表

表三

$$P(\chi^2 > \chi^2_\alpha) = \alpha$$



d.f.	$\chi^2_{0.995}$	$\chi^2_{0.975}$	$\chi^2_{0.950}$	$\chi^2_{0.900}$	$\chi^2_{0.100}$	$\chi^2_{0.050}$	$\chi^2_{0.025}$	$\chi^2_{0.010}$
1	0.0000393	0.0009821	0.0039322	0.0157907	2.705541	3.841455	5.023903	6.634891
2	0.0100247	0.0506357	0.1025862	0.2107208	4.605176	5.991476	7.377779	9.210351
3	0.0717235	0.2157949	0.3518460	0.5843755	6.251394	7.814725	9.348404	11.3449
4	0.206984	0.484419	0.710724	1.063624	7.779434	9.487728	11.1433	13.2767
5	0.411751	0.831209	1.145477	1.610309	9.236349	11.0705	12.8325	15.0863
6	0.675733	1.237342	1.635380	2.204130	10.6446	12.5916	14.4494	16.8119
7	0.989251	1.689864	2.167349	2.833105	12.0170	14.0671	16.0128	18.4753
8	1.344403	2.179725	2.732633	3.489537	13.3616	15.5073	17.5345	20.0902
9	1.734911	2.700389	3.325115	4.168156	14.6837	16.9190	19.0228	21.6660
10	2.155845	3.246963	3.940295	4.865178	15.9872	18.3070	20.4832	23.2093
11	2.603202	3.815742	4.574809	5.577788	17.2750	19.6752	21.9200	24.7250
12	3.073785	4.403778	5.226028	6.303796	18.5493	21.0261	23.3367	26.2170
13	3.565042	5.008738	5.891861	7.041500	19.8119	22.3620	24.7356	27.6882
14	4.074659	5.628724	6.570632	7.789538	21.0641	23.6848	26.1189	29.1412
15	4.600874	6.262123	7.260935	8.546753	22.3071	24.9958	27.4884	30.5780
16	5.142164	6.907664	7.961639	9.312235	23.5418	26.2962	28.8453	31.9999
17	5.697274	7.564179	8.671754	10.0852	24.7690	27.5871	30.1910	33.4087
18	6.264766	8.230737	9.390448	10.8649	25.9894	28.8693	31.5264	34.8052
19	6.843923	8.906514	10.1170	11.6509	27.2036	30.1435	32.8523	36.1908
20	7.433811	9.590772	10.8508	12.4426	28.4120	31.4104	34.1696	37.5663
21	8.033602	10.2829	11.5913	13.2396	29.6151	32.6706	35.4789	38.9322
22	8.642681	10.9823	12.3380	14.0415	30.8133	33.9245	36.7807	40.2894
23	9.260383	11.6885	13.0905	14.8480	32.0069	35.1725	38.0756	41.6383
24	9.886199	12.4011	13.8484	15.6587	33.1962	36.4150	39.3641	42.9798
25	10.5196	13.1197	14.6114	16.4734	34.3816	37.6525	40.6465	44.3140
26	11.1602	13.8439	15.3792	17.2919	35.5632	38.8851	41.9231	45.6416
27	11.8077	14.5734	16.1514	18.1139	36.7412	40.1133	43.1945	46.9628
28	12.4613	15.3079	16.9279	18.9392	37.9159	41.3372	44.4608	48.2782
29	13.1211	16.0471	17.7084	19.7677	39.0875	42.5569	45.7223	49.5878
30	13.7867	16.7908	18.4927	20.5992	40.2560	43.7730	46.9792	50.8922
40	20.7066	24.4331	26.5093	29.0505	51.8050	55.7585	59.3417	63.6908
50	27.9908	32.3574	34.7642	37.6886	63.1671	67.5048	71.4202	76.1538
60	35.5344	40.4817	43.1880	46.4589	74.3970	79.0820	83.2977	88.3794
80	51.1719	57.1532	60.3915	64.2778	96.5782	101.879	106.629	112.329
100	67.3275	74.2219	77.9294	82.3581	118.498	124.342	129.561	135.807